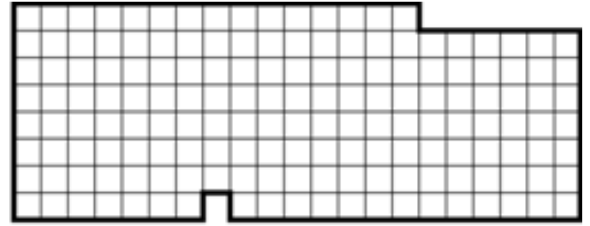
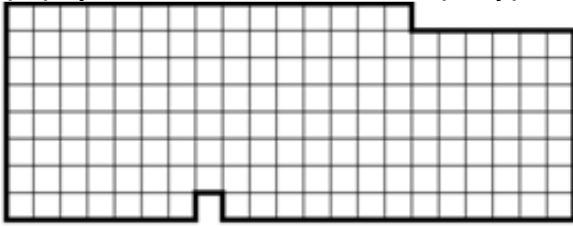
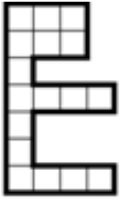


## 2 класс

1. Старый пират Джек поймал несколько странных животных и назвал их кребуретками. Размести в террариуме как можно больше кребуреток.

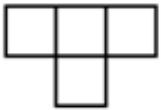


Кребуретка




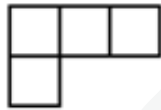
2. Капитан Одноухий Мо купил несколько попугаев. По дороге на корабль половина попугаев разлетелась. Половину оставшихся он подарил другу. Вечером половина улетевших попугаев вернулась к Мо. В итоге у Мо оказалось 4 попугаев. Сколько попугаев купил Мо?

3. Из клада, найденного на острове, капитан Флинт дал юным пиратам Биллу и Сэму по 4 золотые пластины, но сказал, что они смогут забрать это золото себе насовсем, только если фигуры, которые каждый сложит из всех своих пластин, окажутся одинаковыми (одинаковые фигуры — равные по форме и размерам). Помоги юным пиратам сложить одинаковые фигуры (пластины можно поворачивать и переворачивать).

Пластина Билла




Пластина Сэма



4. Боб, Джек, Роб, Ян, Марк собираются в плавание. Но Боб отказывается плыть вместе с Марком, Роб поплывёт только тогда, когда поплывёт Марк, а Джек не поплывёт вместе с Яном, но только с Бобом. Набери как можно большую команду и выпиши её состав.

5. Билл сложил квадратный платок пополам так, что получился прямоугольник. Его он разрезал по диагонали. Нарисуй на квадрате фигуры, на которые распался платок.



6. Путешественник Магеллан ходит по сетчатому острову, записывая, сколько шагов он сделал. После каждого хода он поворачивал, при этом никакую точку не проходил дважды. От точки Н он дошёл до точки К. Вот список его ходов: 2, 2, 2, 2, 3, 3, 2. Восстанови его маршрут.

